







LA FESTA: FASE 1

Amelia sta organizzando la sua festa di compleanno. Decide che pizza e torta non possono mancare. Inizia ad occuparsi della pizza: vuole offrire pizze tonde, ma non sa quante ordinarne e, soprattutto, come tagliarle.

1. Aiutala, completando la tabella che trovi qui di seguito.

pizza	tagli	n. pezzi
	1	
	2	
	3	
	4	
	5	
	n	





2. Quale consiglio daresti ad Amelia sapendo che gli invitati sono 23 e che ciascuno deve avere almeno 3 fette di pizza? Scrivi qui sotto le tue considerazioni.

LA FESTA: FASE 2

Ora Amelia deve occuparsi della torta, che sarà quadrata e con delle fragole sul bordo. Qui la situazione è più complessa, perché non tutte le fette avranno le stesse caratteristiche.



3. Aiutala di nuovo, completando quest'altra tabella:

	numero fette	numero fette senza fragole	numero fette con fragole su 1 solo lato	numero fette con fragole su 2 lati
				
				
				
				
n·n				

4. Quale consiglio daresti ad Amelia? Scrivi qui sotto le tue considerazioni.
